

# Habsburkové

## Doplň vyprávění:

Po smrti posledního \_\_\_\_\_ Ludvíka nastoupili na český trůn \_\_\_\_\_. Vládli téměř \_\_\_\_\_ let. Boj o moc mezi \_\_\_\_\_ a \_\_\_\_\_ vedl až ke stavovskému povstání. Sídlem Habsburků byla \_\_\_\_\_, z Prahy vládl jen císař \_\_\_\_\_. Tehdy podporoval \_\_\_\_\_ a \_\_\_\_\_.

Pomocí čísel sestav pořadí, v jakém usedali na český královský trůn. Vedle připiš nejdůležitější událost podle svého výběru.

Habsburkové


Přemyslovci

Lucemburkové

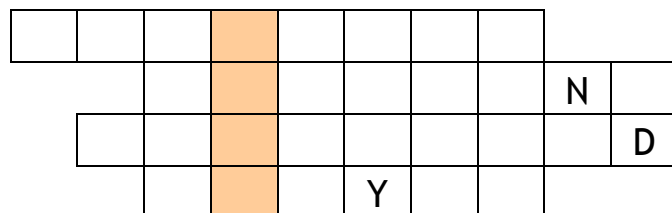
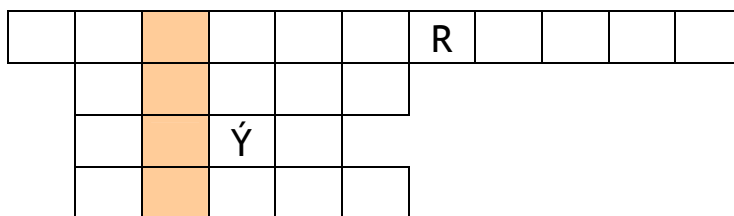
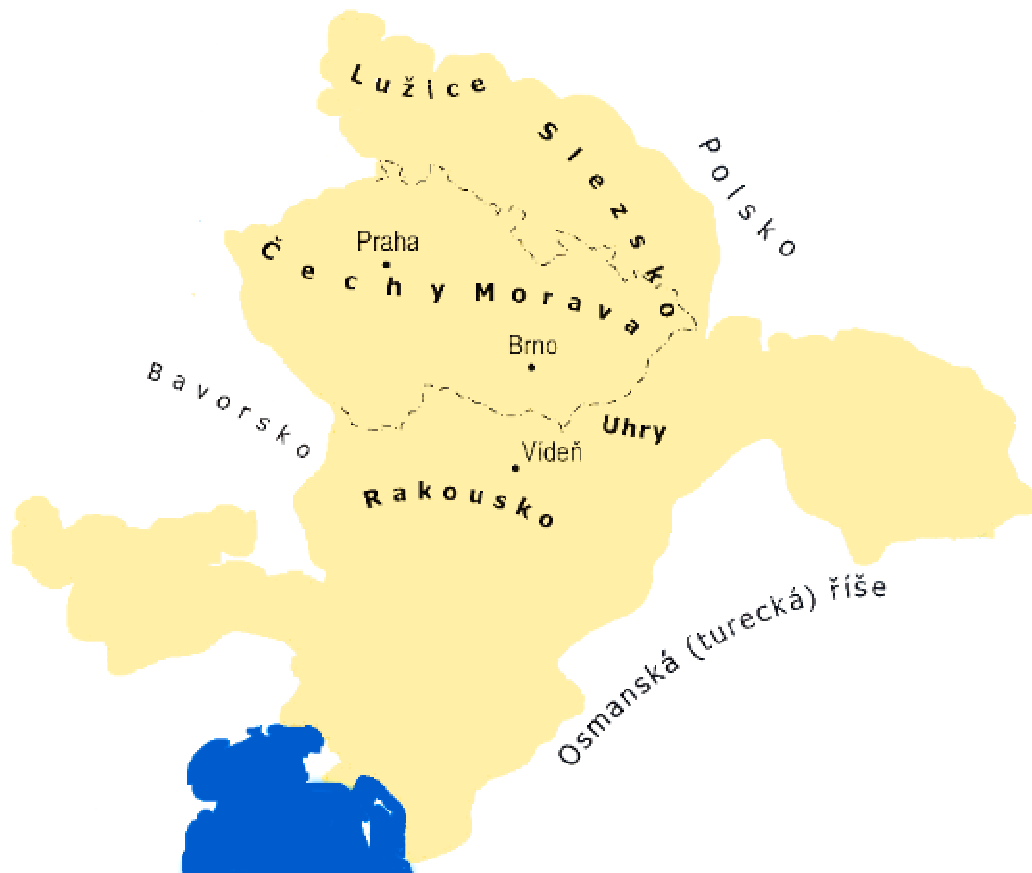
Jagellonci

Jiří z Poděbrad

Pojmenuj osoby na obrázcích, připiš si, čím se zabývali.



Podívej se na rozsah habsburské říše. Dopiš si na správná místa názvy dnešních států.



1. vládnoucí rod na českém trůnu
2. nejvyšší titul panovníka
3. místo, kde se vyráběla mouka
4. obydlí šlechty
5. nahradil ruční opisování knih
6. poslední bojovníci v bitvě na Bílé hoře
7. první král z rodu Habsburků
8. král střídající Rudolfa II.

Vytvoř pastelkami správné dvojice.

pražská defenestrace	8. 11. 1620
počátek třicetileté války	1648
bitva na Bílé hoře	21. 6. 1621
popravy na Staroměstském náměstí	1618
konec třicetileté války	23. 5. 1618

Ke slovním spojením přiřpiš, o který sloh se jedná (románský, gotický, renesanční, barokní).

množství ozdob na stavebách -

tlusté zdi z kamene -

malé a tmavé místnosti -

okna zakončená lomeným obloukem -

nádvoří zámku s arkádami -

ozdobné štíty měšťanských domů -

vysoké stavby s věžičkami -

malá okénka -

množství mramoru, nástěnných maleb a soch -

sgrafity na fasádách domů -

sochy znázorňující mučedníky -

mohutné hrady -

Ponech letopočty, které spadají do období baroka, ostatní škrtni.

1592, 1735, 1648, 1760, 1620, 1913

Jména poutních míst vyhledej na mapě, přiřpiš si k nim město, u kterého se nacházejí:

Svatý kopeček -

Svatá hora -

Hostýn -

Zelená hora -

Na časové ose si vyznač:

nástup Habsburků na český trůn (modře)

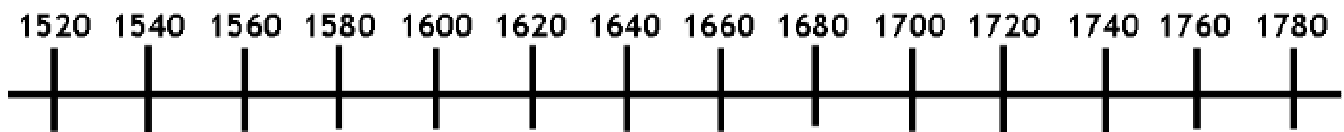
období vlády Rudolfa II. (zeleně)

bitva na Bílé hoře (červeně)

třicetiletá válka (žlutě)

život J. A. Komenského (oranžově)

období baroka (hnědě)



Vyber a zapiš si pět hlavních zásad J. A. Komenského, podle nichž se mělo vyučovat ve škole. Zapiš si je v pořadí, jak je považuješ za důležité.

Místo narození J. A. Komenského \_\_\_\_\_

Místo úmrtí J. A. Komenského \_\_\_\_\_

J. A. Komenský bývá nazýván \_\_\_\_\_